

ERDI MAILAKO HEZIKETA ZIKLOETAN SARTZEKO PROBA. 2020

26/2020 EBAZPENA, urtarrilaren 25ekoa

2020-06-22

TEKNOLOGIA

KALIFIKAZIO EPAIMAHAIA: 1

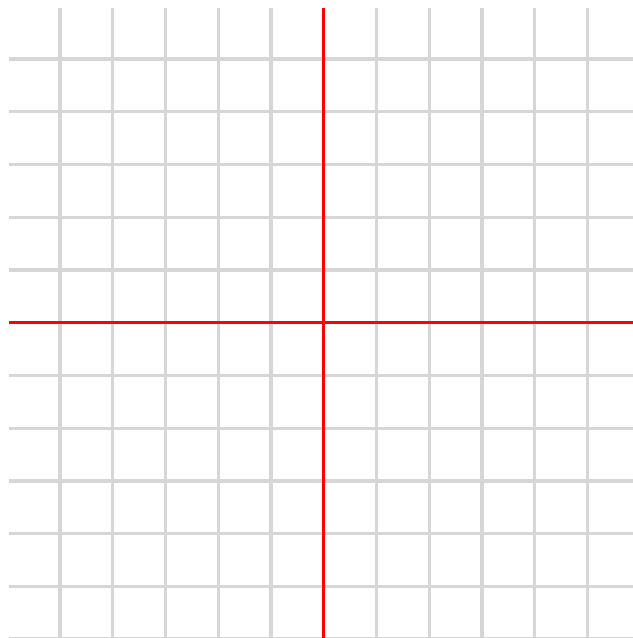



DEITURAK

IZENA

NANa/AIZ

1. Marraz itzazu ondoko irudiaren aurretiko bista, goitiko bista eta alboko bista.



2. Etxebizitza bateko (220 V) egongelan bi lanpara bereizi daude; bata 80 W-ekoa eta bestea 50 W-ekoa.

- a. Horietako bakoitzak zenbateko korrante elektrikoa kontsumitzen du?
b. Zenbateko korrante elektrikoa kontsumituko dute biak batera pizten ditugunean?

ERDI MAILAKO HEZIKETA ZIKLOETAN SARTZEKO PROBA. 2020

26/2020 EBAZPENA, urtarrilaren 25ekoa

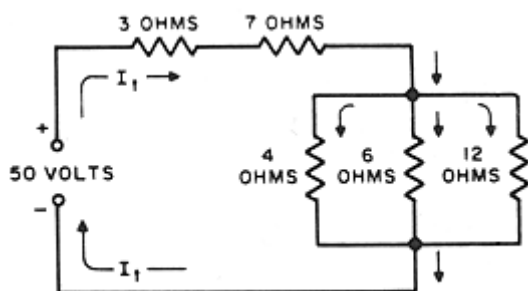
2020-06-22

TEKNOLOGIA

3. Beheko 9 esaldietatik, marka itzazu 3 zuzenak.

- a) Beira elastikoa eta malgua da.
- b) Altzairua gogorra da eta elektrizitatearen eroalea da.
- c) Zura harikorra eta zeharrargitsua da.
- d) Ordenagailuak sagua, teklatura eta pantaila ditu.
- e) Ordenagailuak turbina, errodamendua eta biela ditu.
- f) Ordenagailuak konpresorea, elektrodoa eta mikrometroa ditu.
- g) Testuak idazteko Internet Explorer programa erabiltzen da.
- h) Testuak idazteko Microsoft Word programa erabiltzen da.
- i) Testuak idazteko Autocad programa erabiltzen da.

4. Kalkula ezazu ondoko zirkuituaren erresistentzia baliokidea



5. Txirrindulari bat bizikletan doa, 70 bira minutuko maiztasunarekin. Bizikletak 36 hortzetako platera du eta atzeko gurpilean 12 hortzetako piñoia.

- a. Transmisio-erlazioa kalkula ezazu.
- b. Zenbat bira minutuko egingen ditu atzeko gurpilak biratzean?